

2019r.

Zadanie 14. (0–1)

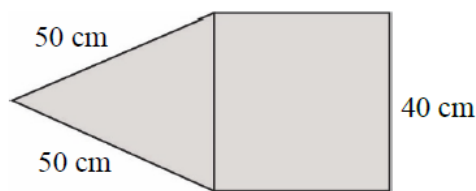
W koszu były 203 jednakowe sześciennie klocki. Zbudowano z nich możliwie największy sześcian, a pozostałe odłożono.

Ile klocków odłożono? Wybierz właściwą odpowiedź spośród podanych.

- A. 150 B. 125 C. 78 D. 53

Zadanie 15. (0–1)

Na rysunku przedstawiono fragment siatki ostrosłupa prawidłowego czworokątnego.



Dokończ zdanie. Wybierz właściwą odpowiedź spośród podanych.

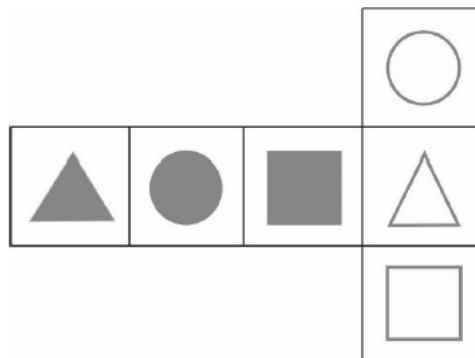
Suma długości wszystkich krawędzi tego ostrosłupa jest równa

- A. 560 cm B. 360 cm C. 260 cm D. 220 cm

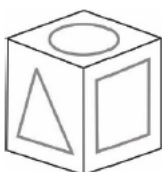
2020r.

Zadanie 9. (0–1)

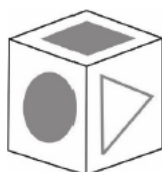
Na kartonowej siatce sześcianu Mariusz nakleił 6 figur tak, jak pokazano na rysunku. Następnie z tej siatki skleił kostkę.



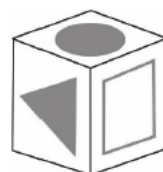
Który rysunek przedstawia kostkę sklejoną przez Mariusza? Wybierz właściwą odpowiedź spośród podanych.



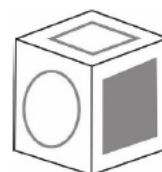
A.



B.



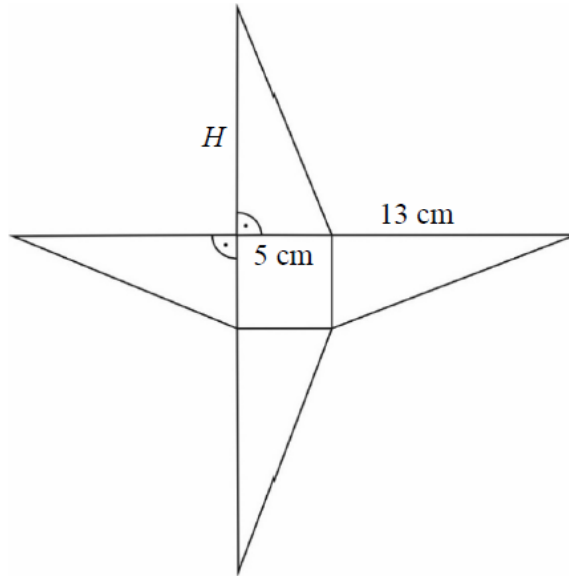
C.



D.

Zadanie 21. (0–3)

Podstawą ostrosłupa o wysokości H jest kwadrat. Na rysunku przedstawiono siatkę i podano długości niektórych krawędzi tego ostrosłupa.



Oblicz objętość tego ostrosłupa. Zapisz obliczenia.

2021r.

Zadanie 14. (0–1)

Skrzynia ma kształt prostopadłościanu. Podłoga skrzyni ma wymiary 1,5 m i 1,2 m, a wysokość skrzyni jest równa 1 m. Piasek wsypany do skrzyni zajmuje $\frac{3}{4}$ jej pojemności.

Ile metrów sześciennych piasku wsypano do skrzyni? Wybierz właściwą odpowiedź spośród podanych.

A. 1,8 m³

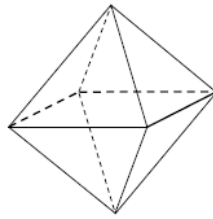
B. 0,45 m³

C. 1,35 m³

D. 2,4 m³

Zadanie 15. (0–1)

Staś ma dwa jednakowe klocki w kształcie ostrosłupa prawidłowego czworokątnego, każdy o polu powierzchni całkowitej 80 cm^2 . Podstawa i ściana boczna klocka mają równe pola. Staś skleił oba klocki podstawami tak, jak na rysunku.



Jakie pole powierzchni ma bryła otrzymana przez Stasia? Wybierz właściwą odpowiedź spośród podanych.

A. 112 cm^2

B. 128 cm^2

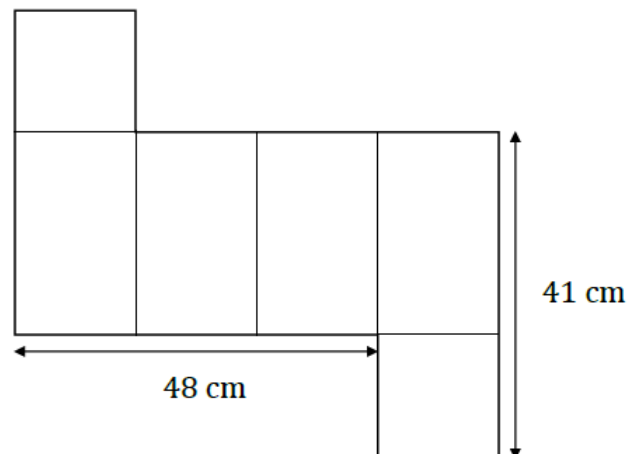
C. 144 cm^2

D. 160 cm^2

2022r.

Zadanie 19. (0–3)

Na rysunku przedstawiono siatkę graniastosłupa prawidłowego czworokątnego oraz zapisano niektóre wymiary tej siatki.



Oblicz objętość tego graniastosłupa. Zapisz obliczenia.

Zadanie 9. (0–1)

Pewien ostrosłup ma 16 wierzchołków.

Ile wierzchołków ma graniastosłup o takiej samej podstawie, jaką ma ten ostrosłup?
Wybierz właściwą odpowiedź spośród podanych.

A. 17

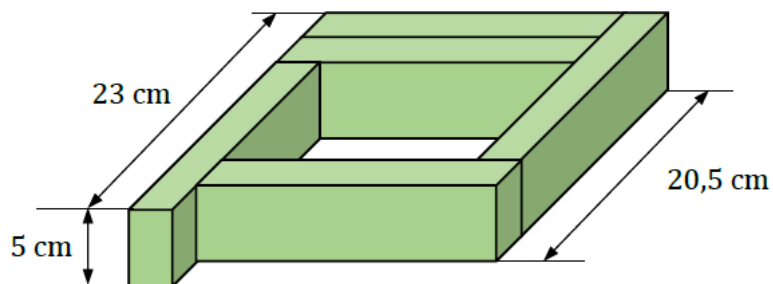
B. 30

C. 32

D. 45

Zadanie 19. (0–3)

Z pięciu prostopadłościennych klocków o jednakowych wymiarach ułożono figurę. Kształt i wybrane wymiary tej figury przedstawiono na rysunku.



Oblicz objętość jednego klocka. Zapisz obliczenia.