

PROCENTY - zadania z egzaminów

2019r.

Zadanie 6. (0–1)

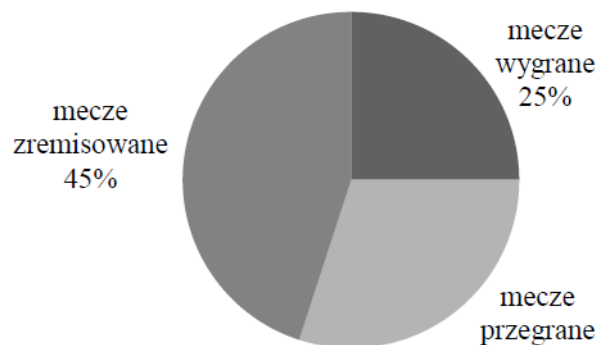
Dorota sporządziła z cukru i wody syrop do deseru. Stosunek masy cukru do masy wody w tym syropie jest równy 5 : 3.

Ile procent masy tego syropu stanowi masa cukru? Wybierz właściwą odpowiedź spośród podanych.

- A. 25% B. 37,5% C. 40% D. 60% E. 62,5%

Zadanie 16. (0–2)

Na diagramie przedstawiono informacje, jaki procent meczów w ciągu całego sezonu drużyna piłkarska zakończyła wygraną, jaki – przegraną, a jaki – remisem.



W ciągu całego sezonu drużyna wygrała 10 meczów. Ile meczów w sezonie ta drużyna przegrała? Zapisz obliczenia.

2020r.

Zadanie 1. (0–1)

Rowerzysta uczestniczył w rajdzie rowerowym. Całą trasę rajdu pokonał w ciągu czterech dni. W tabeli poniżej przedstawiono długości kolejnych etapów trasy, które przebył każdego dnia.

Dzień	Długość kolejnych etapów trasy (w km)
poniedziałek	26
wtorek	27
środa	21
czwartek	31

Uzupełnij poniższe zdania. Wybierz odpowiedź spośród oznaczonych literami A i B oraz odpowiedź spośród oznaczonych literami C i D.

W poniedziałek i wtorek rowerzysta przejechał łącznie

A	B
---	---

 długości całej trasy rajdu.

A. więcej niż 50%

B. mniej niż 50%

W środę rowerzysta przejechał

C	D
---	---

 długości całej trasy rajdu.

C. $\frac{1}{4}$

D. $\frac{1}{5}$

Zadanie 13. (0–1)

W grudniu, w trzech sklepach sportowych: Alfa, Beta i Gamma, sprzedawano łyżwy figurowe w tej samej cenie. Na wiosnę w każdym sklepie ogłoszono obniżkę cen tych łyżew. Poniżej przedstawiono oferty tych sklepów.

Sklep Alfa Płacisz tylko $\frac{2}{3}$ ceny.

Sklep Beta Obniżka o 30%.

Sklep Gamma Ścinamy ćwierć ceny.

Dokończ zdanie. Wybierz właściwą odpowiedź spośród podanych.

Po obniżce cena łyżew figurowych była

A. najniższa w sklepie Alfa.

B. najniższa w sklepie Beta.

C. najniższa w sklepie Gamma.

D. taka sama w trzech sklepach.

2021

Zadanie 6. (0–1)

Podatek od dochodów za rok 2016 w Polsce był obliczany według sposobów przedstawionych w poniższej tabeli.

Podstawa obliczenia podatku	Sposób obliczenia podatku
kwota mniejsza lub równa 85 528 zł	18% podstawy obliczenia podatku pomniejszone o 556,02 zł
kwota większa niż 85 528 zł	14 839,02 zł plus 32% nadwyżki ponad 85 528 zł

Uzupełnij zdania. Wybierz odpowiedź spośród oznaczonych literami A i B oraz odpowiedź spośród oznaczonych literami C i D.

W 2016 roku podstawa obliczenia podatku dla pana Jana wyniosła 84 500 zł. Wysokość podatku (w zł) od dochodu pana Jana opisuje wyrażenie A B .

A. $0,18 \cdot 84\,500 - 556,02$

B. $0,18 \cdot (84\,500 - 556,02)$

W 2016 roku podstawa obliczenia podatku dla pani Zofii wyniosła 97 300 zł. Wysokość podatku (w zł) od dochodu pani Zofii opisuje wyrażenie C D .

C. $14\,839,02 + 0,32 \cdot 85\,528$

D. $14\,839,02 + 0,32 \cdot (97\,300 - 85\,528)$

2022

Zadanie 16. (0–2)

Do wykonania naszyjnika Hania przygotowała 4 korale srebrne, 8 koralii czerwonych i kilka koralii zielonych. Następnie ze wszystkich przygotowanych koralii zrobiła naszyjnik. Zielone korale stanowią 20% wszystkich koralii w zrobionym naszyjniku.

Oblicz, ile zielonych koralii jest w naszyjniku. Zapisz obliczenia.

Zadanie 1. (0–1)

Wśród uczniów klas ósmych przeprowadzono ankietę. Jedno z pytań tej ankiety zamieszczono poniżej.

*Jakie filmy oglądasz najchętniej?
Zaznacz tylko jedną odpowiedź.*


biograficzne

fantasy

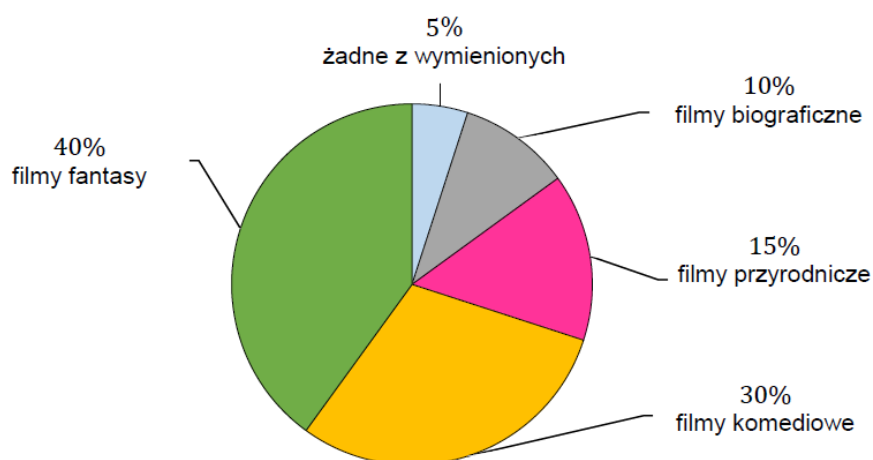
komediowe

przyrodnicze

żadne z wymienionych



Każdy z uczniów wypełniających ankietę zaznaczył tylko jedną odpowiedź. Czterech spośród ankietowanych zaznaczyło odpowiedź *żadne z wymienionych*. Procentowy rozkład udzielonych odpowiedzi uczniów przedstawiono na poniższym diagramie.



Oceń prawdziwość podanych zdań. Wybierz P, jeśli zdanie jest prawdziwe, albo F – jeśli jest fałszywe.

W ankiecie wzięło udział 80 uczniów.	P	F
Filmy fantasy wybrało o 20 uczniów więcej niż uczniów, którzy wybrali filmy przyrodnicze.	P	F

2023

Zadanie 6. (0–1)

W sadzie rosną drzewa owocowe: grusze i jabłonie. Liczba grusz jest o 40% większa od liczby jabłoni. Jabłoni jest o 50 mniej niż grusz.

Ile jabłoni rośnie w tym sadzie? Wybierz właściwą odpowiedź spośród podanych.

A. 20

B. 30

C. 70

D. 125